

THE UNIVERSITY OF THE STATE OF NEW YORK

# 5<sup>o</sup> GRADO

SPANISH EDITION  
SOCIAL STUDIES—GRADE 5  
OBJECTIVE & CONSTRUCTED RESPONSE  
BOOKLET 1

## NIVEL PRIMARIO

## EXAMEN DE ESTUDIOS SOCIALES

### FOLLETO 1

### RESPUESTAS OBJETIVAS Y REDACTADAS

14 DE NOVIEMBRE DE 2001

Nombre del estudiante \_\_\_\_\_

Nombre de la escuela \_\_\_\_\_

En las líneas anteriores, escriba su nombre y el de su escuela en letras de molde.

Este examen tiene tres partes. Las partes I y II están en este folleto; la parte III se encuentra en el folleto 2.

**La Parte I** contiene 35 preguntas de selección múltiple. Responda a estas preguntas en la hoja para respuestas separada. Utilice únicamente un lápiz No. 2 en la hoja para respuestas.

**La Parte II** consiste en varias preguntas de respuestas cortas. Contéstelas en este folleto del examen.

Tendrá 1½ horas para contestar las preguntas en el folleto 1.

**NO ABRA ESTE FOLLETO HASTA QUE SE LE INDIQUE**

Copyright 2001  
THE UNIVERSITY OF THE STATE OF NEW YORK  
THE STATE EDUCATION DEPARTMENT  
ALBANY, NEW YORK 12234

## Parte I

### INSTRUCCIONES

Hay 35 preguntas en la Parte I de este examen. Después de cada pregunta hay cuatro opciones, denominadas A–D. Lea cada pregunta con atención. Decida cuál de las opciones es la respuesta correcta. Conteste la pregunta en la hoja para respuestas separada, llenando, en la fila de círculos para cada pregunta, el círculo cuya letra corresponde a la respuesta que usted ha escogido. Use un lápiz para marcar la hoja de respuestas.

Lea el **ejemplo** siguiente:

<p style="text-align: center;"><b>Ejemplo</b></p> <p>¿Cuál de estas ciudades es la capital del Estado de Nueva York?</p> <p>A Utica B Albany C Ciudad de Nueva York D Búfalo</p>
--

La respuesta correcta es **Albany**, que es la opción correspondiente a la letra **B**. En la hoja de respuestas, mire el cuadro que muestra la fila de círculos donde responder al ejemplo. Como la opción **B** es la respuesta correcta, el círculo con la letra **B** aparece lleno.

Conteste de esta forma las 35 preguntas de la Parte I de este examen. Llene solamente un círculo para cada pregunta. Asegúrese de borrar completamente cualquier respuesta que usted quiera cambiar. Es posible que usted no sepa cómo responder a algunas de las preguntas, pero trate de contestar cada una lo mejor que pueda.

Cuando termine la Parte I, proceda a la Parte II.

## Parte I

Conteste todas las preguntas en esta parte.

- 1 ¿Cuál de estos términos define mejor las costumbres, tradiciones y artes de un grupo de población?  
A interdependencia C cultura  
B democracia D confederación
- 2 ¿Cuál de estas afirmaciones referentes a los iroqueses (Haudenosaunee o *Iroquois*) constituye una opinión?  
A Los iroqueses vivían en edificios rectangulares largos llamados casas comunales.  
B Las mujeres cultivaban, recogían y cocinaban los alimentos.  
C Los sénecas eran la mejor tribu en la Confederación Iroquesa.  
D Los hombres cazaban y pescaban para contribuir alimentos.
- 3 ¿Cuál de estos grupos europeos tuvo mayor influencia en la colonización de la región meridional del Valle del Hudson en el Estado de Nueva York?  
A los franceses C los españoles  
B los holandeses D los portugueses
- 4 Una de las razones principales de la rebelión colonial contra los británicos durante la Guerra de Independencia fue  
A la escasez de té  
B la libertad de culto  
C la ausencia de soldados británicos  
D impuestos sin representación
- 5 En los Estados Unidos, la libertad de prensa está garantizada por  
A la Declaración de Independencia  
B los Artículos de Confederación  
C la Declaración de Derechos  
D el Juramento a la Bandera
- 6 Las primeras fábricas en el estado de Nueva York se construyeron cerca de los ríos y arroyos porque  
A la mayoría de las fábricas dependían del ferrocarril para el transporte  
B había buenas tierras agrícolas cerca  
C todas las materias primas estaban cerca del agua  
D las fábricas usaban el agua para impulsar las máquinas
- 7 La construcción del Canal Erie facilitó e hizo menos costoso el transporte de productos desde Albany hasta  
A Filadelfia  
B Boston  
C Búfalo  
D Washington, D.C.
- 8 La ciudad capital de un estado o país es importante porque  
A tiene muchos edificios  
B es el centro del gobierno  
C es un buen lugar donde vivir  
D tiene muchos museos
- 9 En los Estados Unidos, el Día de los Veteranos es un día de fiesta nacional para honrar a  
A las personas que han servido en las Fuerzas Armadas de los Estados Unidos  
B las personas jubiladas  
C ciertos ex presidentes especiales  
D las personas que firmaron la Declaración de Independencia

Base su respuesta a la pregunta 10 en la ilustración que aparece a continuación.



- 10 ¿Cuál es la idea principal de esta ilustración?
- A Los impuestos federales son demasiado elevados.
  - B El gobierno federal necesita dinero para pagar sus cuentas.
  - C Los impuestos federales se apoderan de dinero que debería ser de los estados.
  - D Los contribuyentes deberían invertir su dinero en forma más sensata.

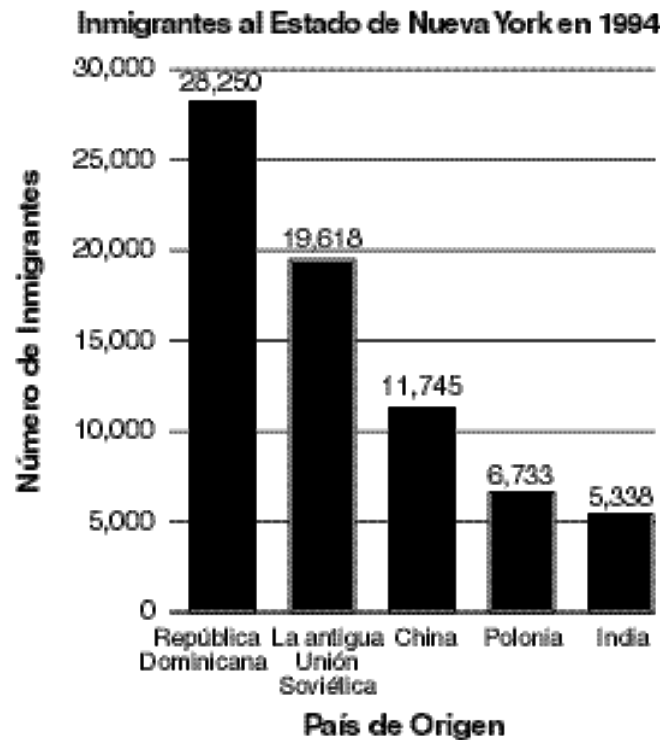
Base su respuesta a la pregunta 11 en el bosquejo parcial que aparece a continuación.

I. \_\_\_\_\_

- A. Presidente
- B. Rey
- C. Emperador
- D. Primer Ministro

- 11 ¿Cuál de estos títulos corresponde al número romano I?
- A Títulos de Líderes Familiares
  - B Títulos de Grupos Musicales
  - C Títulos de Líderes Nacionales
  - D Títulos de Líderes Comerciales

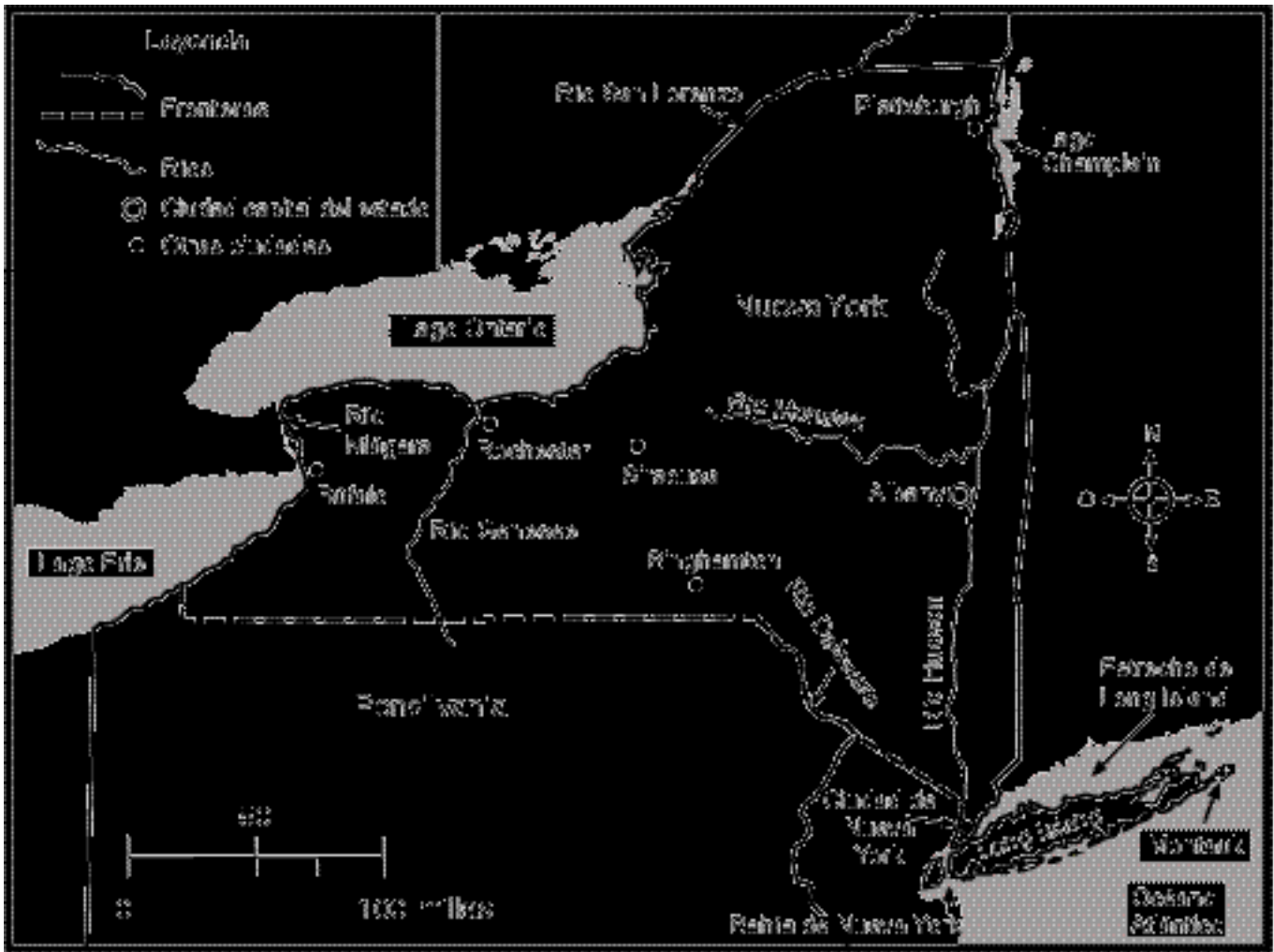
Base sus respuestas a las preguntas 12 y 13 en la gráfica que aparece a continuación.



Fuente: Servicio de Inmigración y Naturalización de los Estados Unidos, Statistical Yearbook [Anuario Estadístico]

- 12 En 1994, casi 20,000 inmigrantes vinieron al Estado de Nueva York de
- A la República Dominicana
  - B la antigua Unión Soviética
  - C China
  - D Polonia
- 13 ¿Qué tipo de información sobre los inmigrantes puede encontrarse en esta gráfica?
- A el número de inmigrantes que vino a los Estados Unidos
  - B los países de los cuáles vinieron algunos de los inmigrantes al Estado de Nueva York
  - C el número de mujeres y de hombres inmigrantes
  - D el número de inmigrantes que encontró trabajos en el Estado de Nueva York

Base sus respuestas a las preguntas 14 y 15 en el mapa que aparece a continuación.



14 ¿Cuál de los ríos forma parte de la frontera entre Pensilvania y el Estado de Nueva York?

- A Río Delaware
- B Río Mohawk
- C Río Hudson
- D Río Niágara

15 ¿Cuáles dos ciudades están situadas en el Río Hudson?

- A Plattsburgh y Albany
- B Montauk y la Ciudad de Nueva York
- C la Ciudad de Nueva York y Albany
- D Plattsburgh y la Ciudad de Nueva York

16 ¿Cuál de estas líneas imaginarias le da la vuelta a la Tierra en la latitud de 0°?

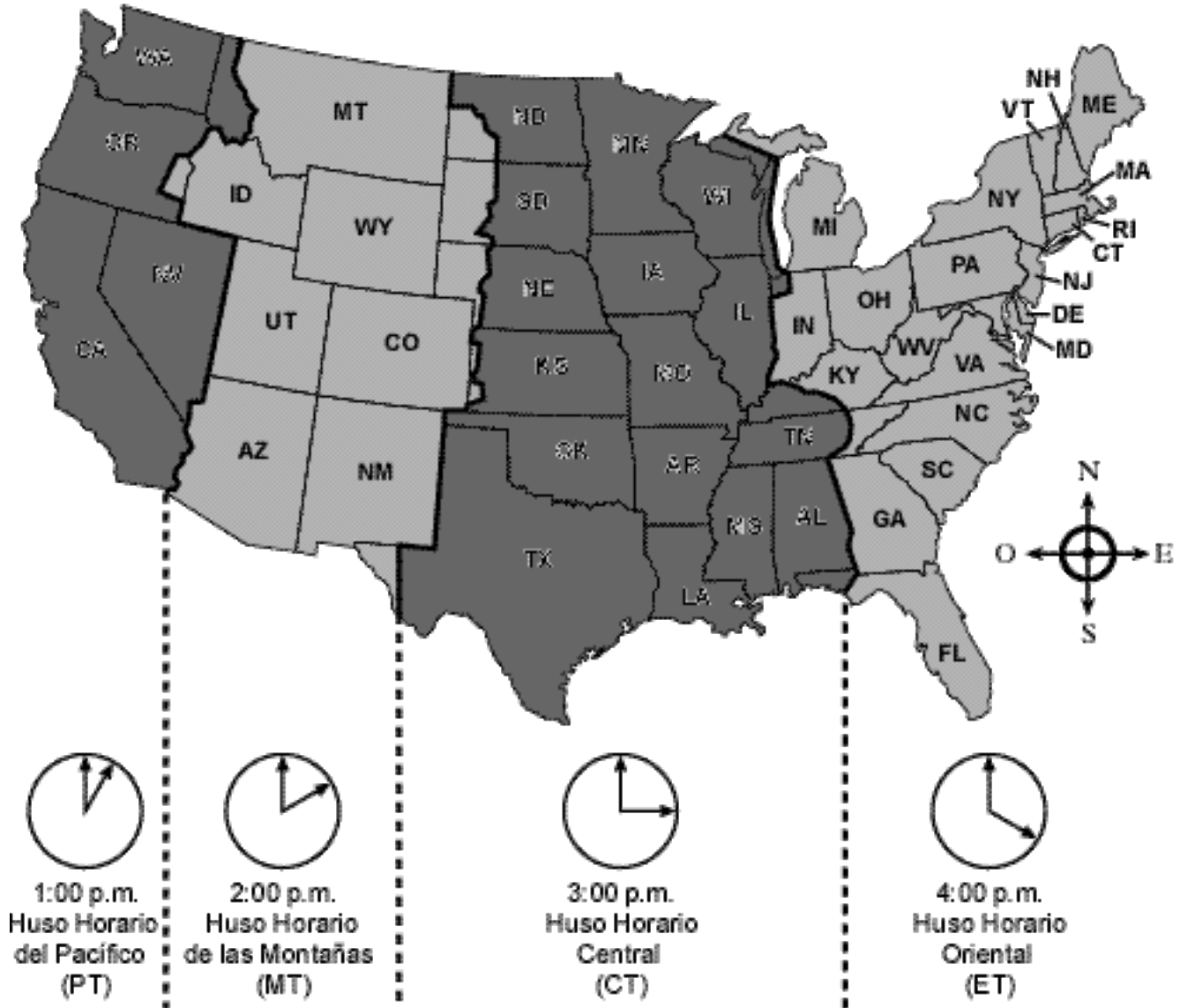
- A el trópico de Cáncer
- B el ecuador
- C el trópico de Capricornio
- D el primer meridiano

17 El objetivo principal de un mapa físico es mostrar

- A características terrestres
- B fronteras políticas
- C calles y carreteras
- D productos

Base sus respuestas a las preguntas 18 y 19 en este mapa que muestra los husos horarios de los Estados Unidos.

### Husos Horarios de los Estados Unidos



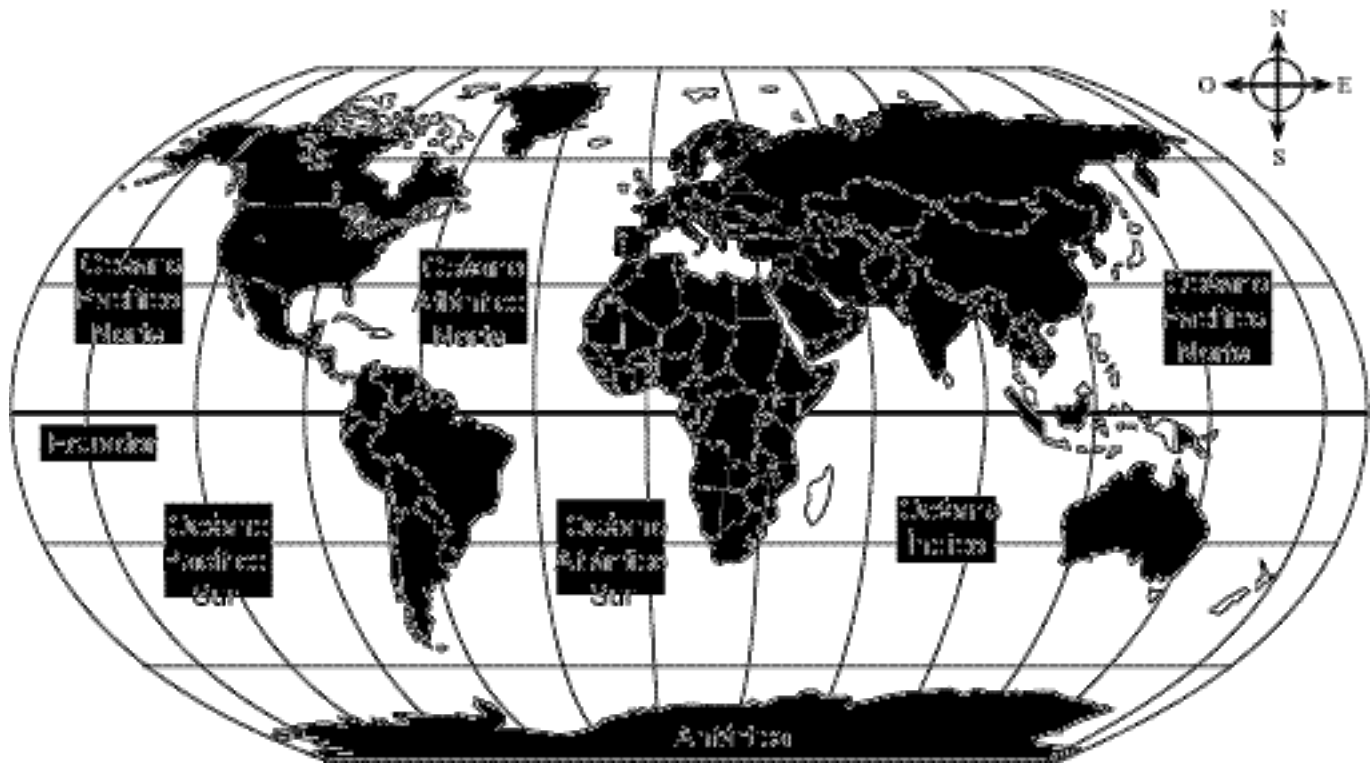
18 Si son las 2:00 p.m. en Nueva York (NY), ¿qué hora es en la mayor parte de Tejas (TX)?

- A 1:00 p.m.
- B 2:00 p.m.
- C 3:00 p.m.
- D 12:00 p.m.

19 ¿En qué huso horario se encuentra el Estado de Nueva York?

- A en el del Pacífico
- B en el de las Montañas
- C en el Central
- D en el Oriental

Base sus respuestas a las preguntas 20 y 21 en el mapa que aparece a continuación.



20 ¿Qué océano se encuentra en la costa occidental de los Estados Unidos continentales?

- A el Océano Atlántico Norte
- B el Océano Pacífico Norte
- C el Océano Atlántico Sur
- D el Océano Pacífico Sur

21 ¿Qué continente está situado completamente dentro del Hemisferio Norte?

- A Europa
- B África
- C Sudamérica
- D Australia

---

Las tres casas mostradas a continuación se encuentran en diferentes regiones del mundo.

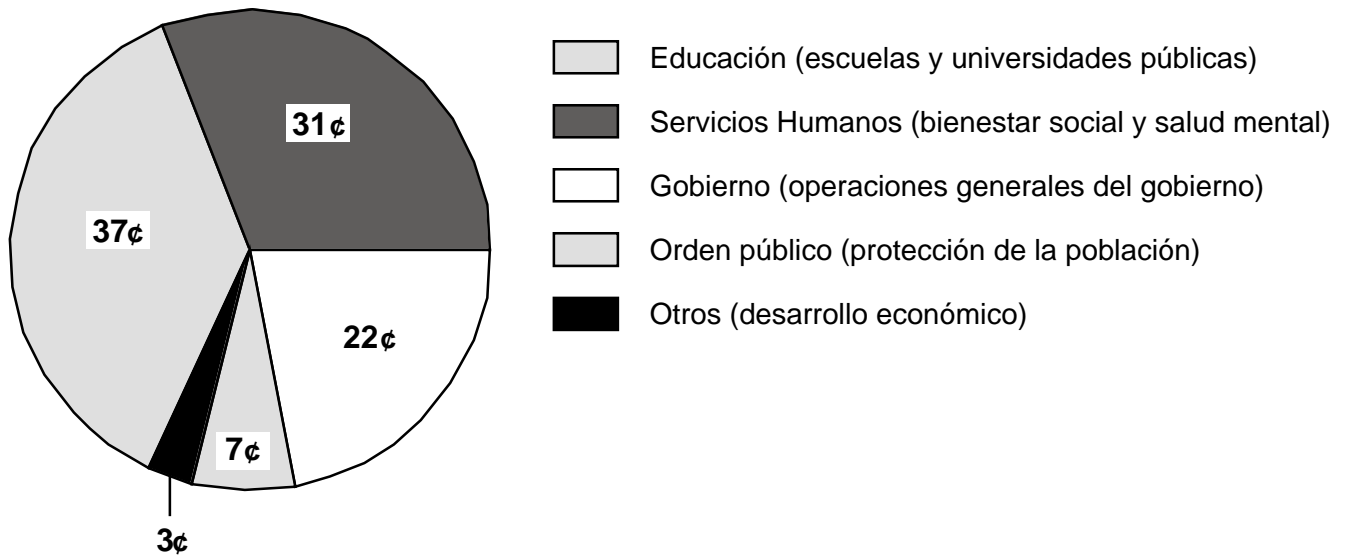


22 Es probable que los constructores hayan decidido erigir estas casas de distintas formas porque tenían

- A diferentes recursos naturales a su disposición
- B ideas diferentes de lo que es bonito
- C diferentes cantidades de espacio para sus casas
- D diferentes cantidades de dinero para gastar

Base sus respuestas a las preguntas 23 y 24 en la gráfica que aparece a continuación.

**Distribución de cada dólar del Estado de Nueva York**



- 23 La mayor parte de cada dólar del Estado de Nueva York se gasta en
- A protección de la población
  - B bienestar social y salud mental
  - C escuelas y universidades públicas
  - D desarrollo económico

- 24 ¿Qué parte de cada dólar del Estado de Nueva York se gasta en operaciones gubernamentales?
- A 7¢
  - B 22¢
  - C 31¢
  - D 37¢

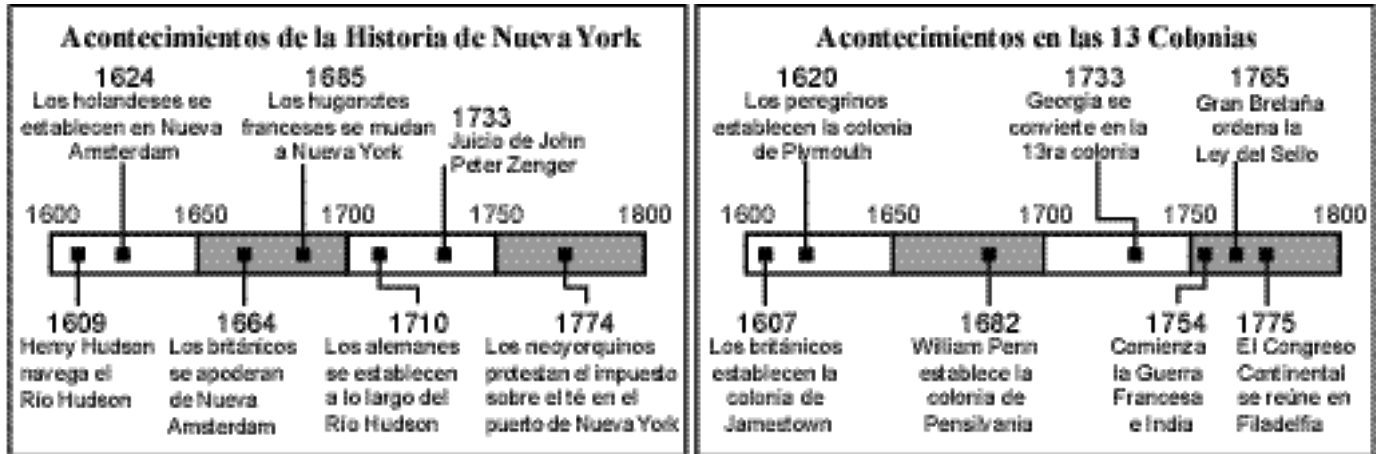
- 25 El dinero que una persona gana al trabajar se llama
- A impuestos
  - B ahorros
  - C ingresos
  - D gastos

- 27 Un ejemplo de una necesidad básica es
- A un tocadiscos para discos compactos
  - B un televisor
  - C una cámara
  - D un lugar donde vivir

- 26 Lo más probable es que un pueblo use el dinero recaudado en forma de impuestos para
- A pagar el costo de la campaña electoral de un nuevo supervisor para el pueblo
  - B prestar servicios para la seguridad de la población
  - C pagar los salarios de los miembros del equipo deportivo local
  - D construir nuevas iglesias

- 28 A la Sra. Smith le avisaron por correo que debe acudir a los tribunales del condado para servir en un jurado. Servir en el jurado es su responsabilidad como
- A mujer
  - B ciudadana
  - C cliente
  - D trabajadora

Base sus respuestas a las preguntas 29 y 30 en los dos cuadros cronológicos que aparecen a continuación y que corresponden al mismo período histórico.



29 ¿Cuándo se mudaron los hugonotes franceses para Nueva York?

- A en 1624
- B en 1664
- C en 1685
- D en 1733

30 ¿Qué acontecimiento ocurrió en Nueva York dentro de los primeros cinco años de haber los Peregrinos establecido la colonia Plymouth?

- A Los hugonotes franceses se mudaron a Nueva York.
- B Henry Hudson navegó el Río Hudson.
- C Los holandeses establecieron Nueva Amsterdam.
- D Tuvo lugar el juicio de John Peter Zenger.

31 Giovanni Verrazano, Jacques Cartier y Henry Hudson fueron todos

- A gobernadores del Estado de Nueva York
- B famosos inventores americanos
- C exploradores del Estado de Nueva York
- D generales en la Guerra Revolucionaria

32 Cada estrella de la bandera estadounidense representa

- A un estado
- B una gran ciudad
- C una colonia
- D un ex presidente

33 ¿Cuál de estos acontecimientos ocurrió primero?

- A Henry Ford construyó automóviles.
- B Los viajes por avión se popularizaron.
- C Se abrió el Canal de Erie.
- D Los ferrocarriles se popularizaron.

34 Un asentamiento (*settlement*) gobernado por otro país se llama

- A un estado
- B un hemisferio
- C una colonia
- D una isla

35 ¿Cuál de estas listas presenta tres documentos importantes en el orden correcto en que se escribieron, desde el más antiguo hasta el más reciente?

- A Declaración de Independencia → Constitución de los Estados Unidos → Compacto del Mayflower
  - B Compacto del Mayflower → Declaración de Independencia → Constitución de los Estados Unidos
  - C Constitución de los Estados Unidos → Compacto del Mayflower → Declaración de Independencia
  - D Compacto del Mayflower → Constitución de los Estados Unidos → Declaración de Independencia
- 

SIGA DIRECTAMENTE A LA PRÓXIMA PÁGINA ⇨

**FOR TEACHER USE ONLY**

Part I Score \_\_\_\_\_

## Part II

*Instrucciones:* Responda a las preguntas siguientes en los espacios proporcionados para ello en este folleto.

Base sus respuestas a las preguntas 1 a 3 en este dibujo de Guangzhou, China.



1 Identifique *un* método de transporte utilizado por la gente de la comunidad asiática que aparece en esta imagen. [1]

Puntos

2 Cite **dos** razones por las cuales el río es importante para la gente de esta comunidad asiática. [2]

a \_\_\_\_\_ Puntos

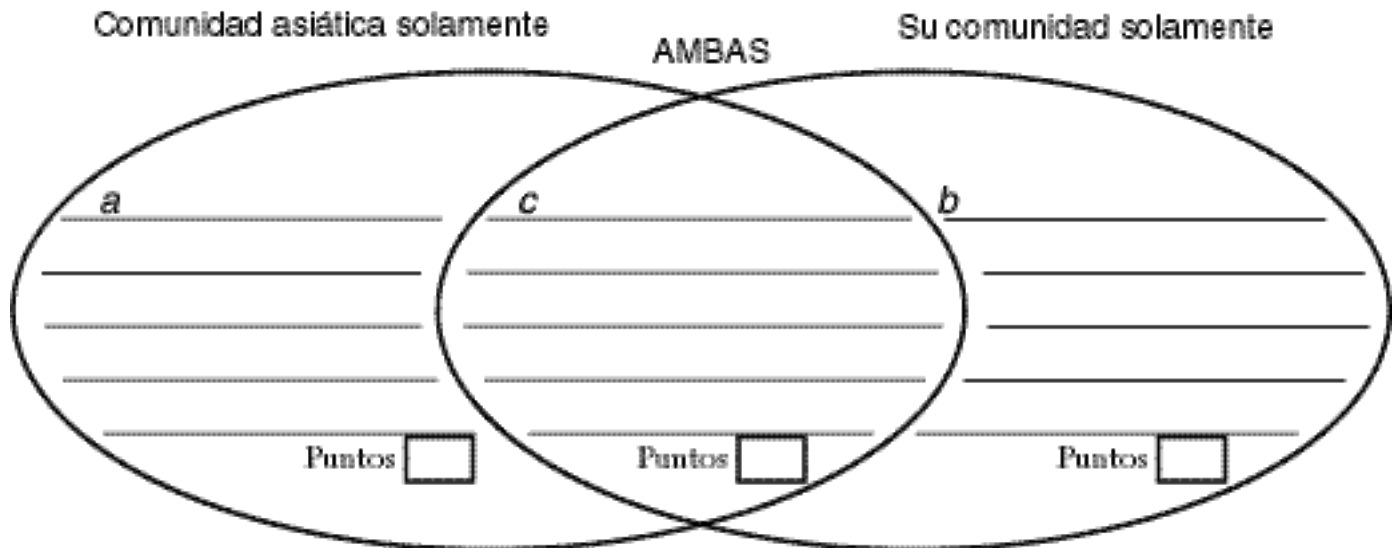
b \_\_\_\_\_ Puntos

3 Llene el diagrama Venn que aparece a continuación de acuerdo con las tres oraciones siguientes.

a Indique **una** forma en que la comunidad asiática es **diferente** de su comunidad. [1]

b Indique **una** forma en que su comunidad es **diferente** de esta comunidad asiática. [1]

c Indique **una** forma en que su comunidad y esta comunidad asiática son **similares**. [1]



Base sus respuestas a las preguntas 4 a 6 en el texto citado a continuación.

El Festival Chino de Medios del Otoño celebra la cosecha, la luna llena y una mujer llamada Doncella Luna.

El festival es un día de fiesta nacional en China. Se celebra en las grandes ciudades y en las regiones rurales. Ese día las familias se reúnen y comparten una comida festiva. Después de comer, todos salen a mirar la luna brillante. Comen pequeñas golosinas redondas llamadas tortas luneras.

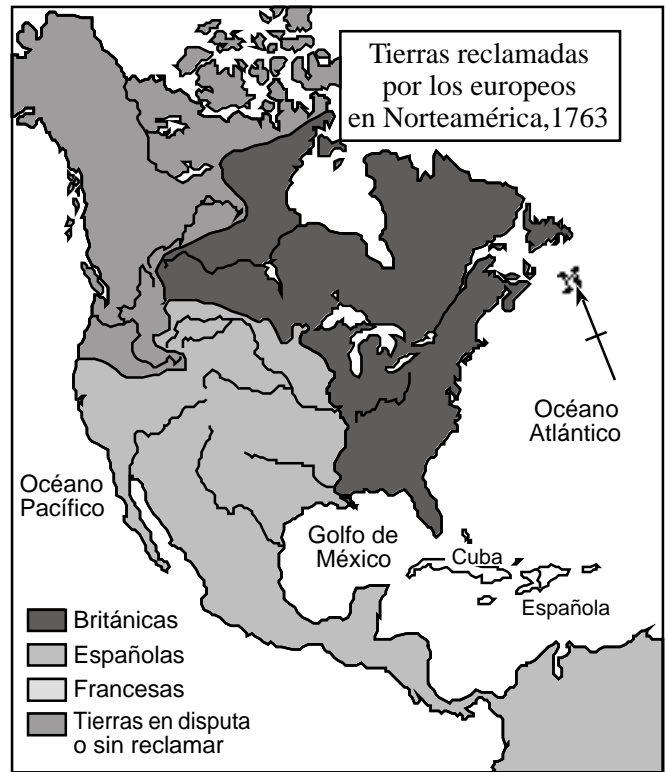
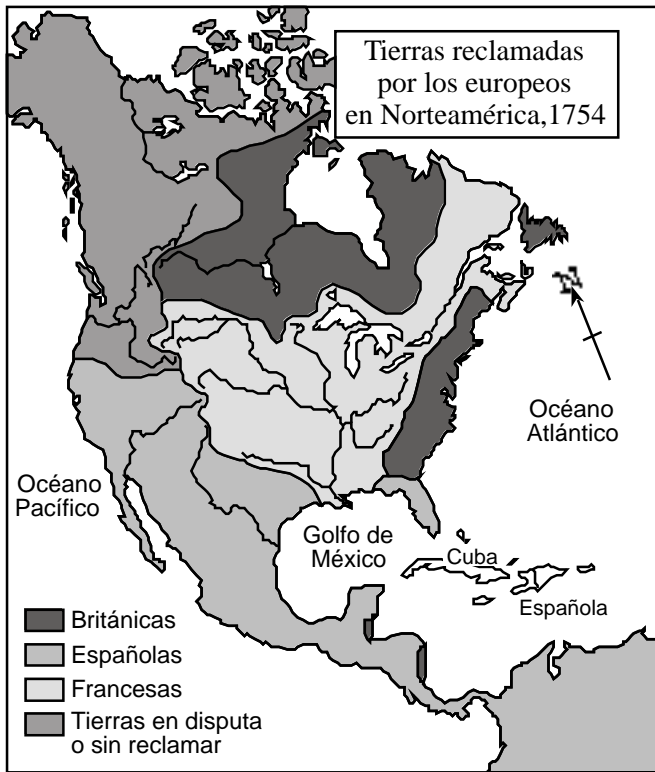
El Festival de Medios del Otoño tiene más de 2000 años. Nadie sabe a ciencia cierta cómo comenzó. Pero es probable que, hace tiempo, haya sido un festival para dar gracias por la cosecha de arroz. Muchos chinos también ven este día festivo como el momento para honrar a la Doncella Luna. Creen que ella era la esposa de un dios.

— *Harvest* [Cosecha], Lois Markham (adaptado)

Hay similitudes y diferencias entre el Día de Acción de Gracias en los Estados Unidos y el Festival Chino de Medios del Otoño. Compare el Día de Acción de Gracias en los Estados Unidos y el Festival Chino de Medios del Otoño llenando los cuadros 4 a 6 que aparecen a continuación. [3]

<b>Compare</b>	<b>Festival Chino de Medios del Otoño</b>	<b>Día de Acción de Gracias en los Estados Unidos</b>
<b>Objetivo del día festivo</b>	Dar gracias por la cosecha de arroz	4 _____ _____ _____ Puntos <input type="text"/>
<b>Comida tradicional</b>	5 _____ _____ _____ Puntos <input type="text"/>	Pavo
<b>Lo que hace la gente</b>	Comparten una comida festiva	6 _____ _____ _____ Puntos <input type="text"/>

Base sus respuestas a las preguntas 7 a 9 en estos mapas de Norteamérica.



7 ¿Qué **tres** países europeos reclamaron parte de Norteamérica en 1754? [3]

- a \_\_\_\_\_ Puntos
- b \_\_\_\_\_ Puntos
- c \_\_\_\_\_ Puntos

8 En 1754, ¿qué país reclamó la **menor** cantidad de tierras en Norteamérica? [1]

\_\_\_\_\_ Puntos

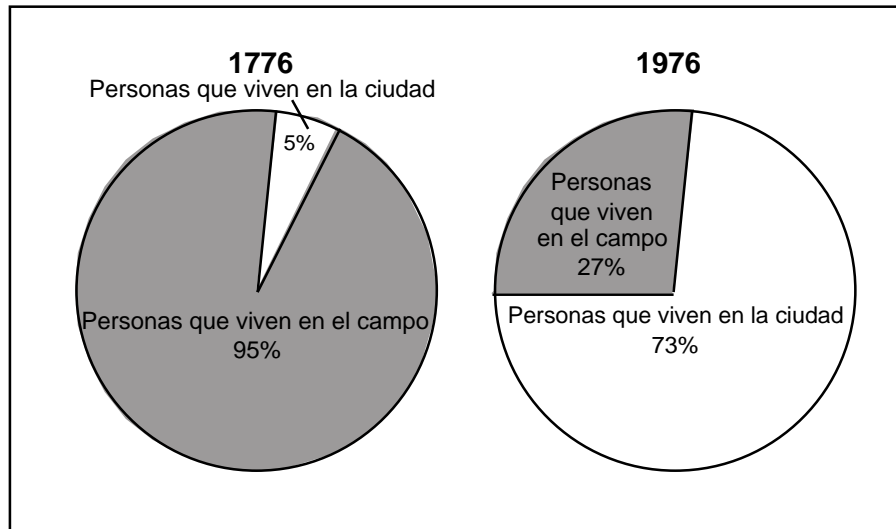
9 Describa **dos** maneras en que cambiaron las reclamaciones de tierras por los europeos entre 1754 y 1763. [2]

- a \_\_\_\_\_
- \_\_\_\_\_ Puntos
- b \_\_\_\_\_

\_\_\_\_\_ Puntos

Base sus respuestas a las preguntas 10 a 12 en las gráficas que aparecen a continuación.

Comparación de tipos de comunidades en los Estados Unidos (1776 y 1976)



10 Mencione el tipo de comunidad donde vivía la mayoría de la gente en **1976**. [1]

Puntos

11 ¿Qué trabajo tenía la mayoría de la gente en **1776**? [1]

Puntos

12 ¿Qué afirmación general se puede hacer respecto a los cambios que ocurrieron en el lugar donde vivía la gente en **1776** y en **1976**? [1]

Puntos

**FOR TEACHER USE ONLY**

Total Part II Score \_\_\_\_\_